

DESCARGAS GRATUITAS

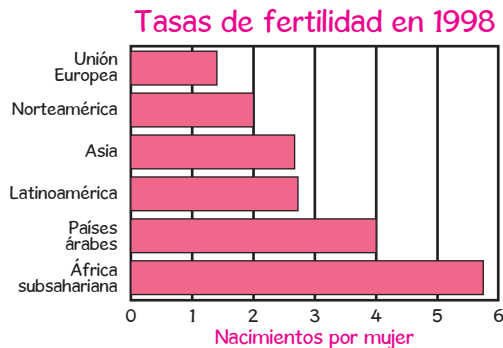
GRADO

9

Sociales



1 Observa la siguiente gráfica:



De la gráfica se puede concluir que

- A. los países industrializados tienen políticas conservadoras respecto a la natalidad.
- B. las regiones con menor desarrollo económico tienen tasas de fertilidad mayores.
- C. en Asia y Latinoamérica el promedio de nacimientos es menor al de muertes.
- D. la distribución de las tasas de natalidad a nivel mundial son homogéneas.

2

En la década de 1840-1850 la transformación industrial del mundo que no hablaba inglés era muy modesta todavía. Por ejemplo, en 1850 había poco más de doscientos kilómetros de vías férreas en España, Portugal, Escandinavia, Suiza y toda la Península Balcánica, y menos todavía en todos los continentes no europeos juntos.

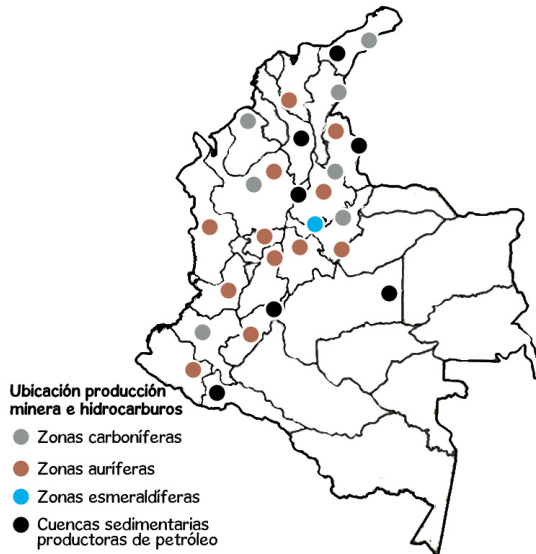
Fuente: <http://es.scribd.com/doc/85063977/Eric-Hobsbawn-Las-revoluciones-burguesas>.

Un indicador de desarrollo industrial de la época era la construcción de ferrocarriles porque

- A. la demanda de minerales del nuevo mundo requería la aceleración de la construcción de vías férreas.
 - B. los sistemas de transporte terrestre eran necesarios para el intercambio ágil de mercancías.
 - C. se necesitaban grandes cantidades de hierro y plata para construir las vías férreas en Europa.
 - D. los sistemas de trabajo en los nacientes imperios marítimos dependían de las ciudades periféricas.
- 3 Las crisis económicas de la segunda mitad del siglo XIX provocaron que la mayor parte de los Estados europeos adoptara políticas proteccionistas para incentivar la producción nacional, lo cual, sin embargo, dificultaba la colocación del exceso de producción en otros países europeos. Este factor incentivó el imperialismo colonial ya que
- A. los países europeos que habían hecho un pacto anticolonial se enfrentaron con Rusia.
 - B. se produjo un conflicto entre los intereses comerciales de África y los Estados Unidos.
 - C. los países con índices bajos de desarrollo buscaron nuevos territorios comerciales.
 - D. se requerían nuevos mercados de exportación y de abastecimiento de materias primas.

A PARTIR DE LA INFORMACIÓN RESPONDE LAS PREGUNTAS 4 Y 5

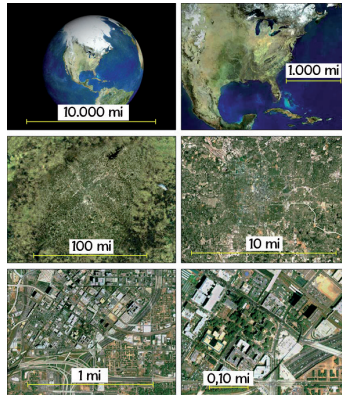
Gráfico: Mapa de la minería en Colombia



Fuente: http://www.elcolombiano.com/BancoConocimiento/G/grafico_mapa_de_la_mineria_en_colombia_grafico_mapa_de_la_mineria_en_colombia.asp.

- 4 La actividad minera en Colombia se concentra en
- el sistema periférico del Baudó.
 - la depresión Momposina.
 - el sistema cordillerano andino.
 - la cuenca media del Amazonas.
- 5 La zona del país más septentrional de explotación petrolera se encuentra en
- Norte de Santander.
 - Meta.
 - Putumayo.
 - la Guajira.
- 6 En la Rusia zarista, la figura del zar concentraba todo tipo de poderes, gobernaba por decretos sin contar con ningún parlamento y era el jefe único del ejército, a través del cual reprimía a la oposición política. Esta forma de gobierno puede considerarse como un régimen
- aristocrático.
 - democrático.
 - autocrático.
 - carismático.

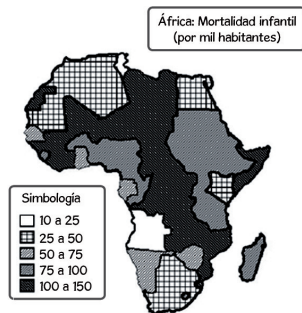
A PARTIR DE LA GRÁFICA RESPONDE LAS PREGUNTAS 7 Y 8



Fuente: <http://www.claseshistoria.com/bilingue/1eso/earthplanet/representation-scale-esp.html>.

- 7 La escala más pequeña se encuentra en la imagen que tiene
- 100 millas.
 - 10.000 millas.
 - 1.000 millas.
 - 0,10 millas.
- 8 En la imagen que aparece la escala de 1.000 millas se puede ver
- el sudeste asiático, Indochina y la península ibérica.
 - una parte de Centroamérica, Norteamérica y las Antillas.
 - las islas baleares, la península de Yucatán y Norteamérica.
 - el Cabo de Buena Esperanza, Miami y México.

A PARTIR DEL MAPA RESPONDE LAS PREGUNTAS 9 Y 10



Fuente: <http://www.latindex.ucr.ac.cr/descargador.php?archivo=edu007-05>.

- 9 Las tasas de mortalidad más bajas de África se encuentran al Norte en
- Túnez.
 - Libia.
 - Sudán.
 - Camerún.



- 10 En Sudáfrica predomina una mortalidad infantil de
- A. 100 a 150 por mil habitantes.
 - B. 50 a 75 por mil habitantes.
 - C. 25 a 50 por mil habitantes.
 - D. 10 a 25 por mil habitantes.

A PARTIR DEL TEXTO RESPONDE LAS PREGUNTAS 11 Y 12

Las praderas de pastos marinos, son muy similares a las terrestres y se desarrollan sobre fondos arenosos y fangosos costeros. A los pastos se asocian algas y animales en una comunidad muy relacionada en el Caribe con los ecosistemas coralinos. Las praderas modifican la topografía, fase en la cual pueden ser invadidas por manglares, propiciando el avance de la tierra sobre el mar.

- 11 La modificación que producen las praderas de pastos en la topografía costera, se da porque
- A. retienen sedimentos sobre los cuales crecen.
 - B. aumentan la acidez del agua en la costa.
 - C. cambian los ciclos de alimentación de peces.
 - D. han conservado la superficie en el mar abierto.
- 12 En el texto se habla de asociación entre ecosistemas. Al afectar la producción natural de pastos marinos por un agente externo, se estaría
- A. ampliando la diversidad de participantes en la relación biológica.
 - B. alterando el equilibrio generado entre diversos sistemas.
 - C. formando una cadena de transmisión de energía a todos los agentes.
 - D. introduciendo un ciclo ecológico a la fauna en las costas.

A PARTIR DEL TEXTO RESPONDE LAS PREGUNTAS 13 Y 14

La Ley 83 de 1931, que reglamentaba los sindicatos en el país, enmarcaba a los dirigentes y a los trabajadores en el ámbito de su empresa, donde se resolvía lo relacionado con sus reivindicaciones. A su vez, la ley contemplaba la capacidad de negociación colectiva y la celebración de contratos.

Fuente: http://memoriaysociedad.javeriana.edu.co/anexo/articulo/doc/8c6_25_8.pdf. Rescatado: enero 2014.

- 13 Siguiendo el texto, el proceso de conformación del sindicalismo en la primera mitad del siglo XX, produjo en la organización sindical
- A. el estrechamiento dirigido a una concepción economicista que limitaba una visión más amplia de la problemática nacional.
 - B. la ampliación de los derechos laborales a sectores de la clase trabajadora que tenían contratos permanentes.
 - C. el diseño de acuerdos que incluían a los trabajadores de las industrias, la reducción de las horas de trabajo a cambio de la baja de salarios.
 - D. la obtención de una conciencia que les permitió fortalecer sus debilidades frente a la negociación con los gobiernos.

- 14 Al establecer una negociación colectiva entre una empresa y los trabajadores que pertenecen a esta, se esperaría como resultado que
- los decretos acordados se confirmen en las asambleas generales de trabajadores.
 - las personas beneficiadas disminuyan la productividad y ganancias de la empresa.
 - lo que resulte pactado en la negociación se aplique a la totalidad de los trabajadores.
 - se distribuyan las labores de forma equitativa, poniendo fin a la división del trabajo.
- 15 La plataforma continental es una superficie que se encuentra por debajo del mar que está cerca de la costa y la cual no tiene una profundidad mayor a los 200 metros. La plataforma continental tiene importancia económica porque
- el mar cercano a las costas determina intercambios de energía a través de los vientos.
 - en ella se realizan controles ambientales, tareas de limpieza y de descontaminación.
 - es un territorio en el que los gobiernos ejercen soberanía con las fuerzas armadas.
 - en ella se encuentra vida animal y vegetal así como reservas de gas y de petróleo.

A PARTIR DE LA INFORMACIÓN RESPONDE LAS PREGUNTAS 16 Y 17

Elecciones libres y justas, y libertades civiles son condiciones necesarias para la democracia. Pero, no son suficientes para que una democracia sea plena y consolidada si no van acompañadas por un gobierno transparente y eficiente, amplia participación política y una cultura política democrática. No es fácil construir una democracia sólida, incluso aquellas de larga data, pueden deteriorarse si no son fortalecidas y no reciben suficiente apoyo y protección.

Índice de Democracia 2012 por tipo de régimen

	Número de países	% de países	% de la población mundial
Democracias Plenas	25	15,0	11,3
Democracias Defectuosas	54	32,3	37,2
Regímenes Híbridos	37	22,2	14,4
Regímenes Autoritarios	51	30,5	37,1

Fuente: <https://sites.google.com/site/myteconomics/infodata01/elindiceydemocracia2012lademocraciastaestancada>.

- 16 Un rasgo que se encontraría en una democracia plena, y que está ausente en un régimen autoritario, podría ser
- un gobernante que lidere los cambios.
 - la formación de grupos de interés.
 - un ejército que defienda la soberanía.
 - la ausencia de jueces litigantes.
- 17 Para que un régimen híbrido pueda ascender en la escala del índice democrático, respecto a la transparencia del gobierno, debería
- crear reglas de administración pública emitidas por el gobierno.
 - introducir normas de cambio constitucional en el partido de gobierno.

- C. organizar comités de gestión pública, elegidos internamente.
- D. permitir la creación de organismos de control de la gestión pública.

CON BASE EN LA SIGUIENTE INFORMACIÓN RESPONDE LAS PREGUNTAS 18 Y 19



Mapa de la pobreza por ingresos en Colombia distorsionado por número de pobres.

En el gráfico vemos un mapa de Colombia desfigurado teniendo en cuenta el porcentaje de pobres que cada territorio posee del total de pobres del país. El mapa nos muestra que dicha concentración se da en los territorios que más aportan a la producción económica nacional.

Fuente: <http://www.co.undp.org/content/colombia/es/home/ourwork/povertyreduction/news/la-geografia-de-la-pobreza-en-colombia.html>

- 18 Una afirmación coherente con lo que se muestra en el gráfico respecto a la pobreza sería que
- A. el departamento del Valle concentra el mayor porcentaje de ricos en relación con la población pobre.
 - B. a pesar de generar el 25% del PIB nacional, Bogotá aporta un porcentaje significativo de pobres.
 - C. la región del Amazonas tiene una densidad de población baja con ingresos superiores a la media nacional.
 - D. en conjunto, el país tiene unos niveles altos de población pobre que supera el 9% del total.
- 19 Una de las problemáticas con las que se encontraría un gobernador electo de Antioquia, el departamento que tiene más población pobre respecto al total nacional, pero que a la vez tiene altos ingresos, estaría relacionada con
- A. la distribución de la riqueza que es profundamente desigual y el desempleo es alto.
 - B. los sistemas productivos que son escasos y la población no tiene educación secundaria.
 - C. la economía regional caracterizada por el minifundio de propiedad campesina.
 - D. las capas pobres que tienen subsidios de calidad impidiendo su ascenso económico.

- 20 La Revolución Mexicana es el movimiento armado iniciado en 1910 para terminar la dictadura de Porfirio Díaz y que culminó oficialmente con la promulgación de la nueva Constitución Política de los Estados Unidos Mexicanos de 1917, siendo esta la primera a nivel mundial en reconocer las garantías sociales y los derechos laborales colectivos.

Fuente: <http://congresojal.gob.mx/BibliotecaVirtual/libros/AntecedentesRevolucion.pdf>.

En el texto se menciona la dictadura instaurada en el país por Porfirio Díaz. La concepción de dictadura se vincularía con

- A. la violación de las libertades individuales como el arresto sin orden judicial.
- B. el énfasis en la protección de las fuerzas militares al combatir amenazas externas.
- C. la reducción del gasto público en servicios básicos como el de alcantarillado.
- D. el personalismo, cuando un partido político es fundado por un candidato.

RESPUESTAS

Preguntas	Respuestas
1	B
2	B
3	D
4	C
5	D
6	C
7	B
8	B
9	A
10	A
11	A
12	B
13	A
14	C
15	D
16	B
17	D
18	B
19	A
20	A